

Тема:

НАСЕЛЕННЯ УКРАЇНИ. МІГРАЦІЙНІ ПРОЦЕСИ. ДЕМОГРАФІЧНА ПОЛІТИКА.

План вивчення теми:

1. Ознайомся із текстом підручника: Географія, 11 клас. В.Безуглий, Г.Лисичарова, 2019 р. §26. (<https://pidruchnyk.com.ua/1313-geografiya-bezugliy-11-klas.html>) та змістом презентації до теми.
2. За текстом підручника та опорного конспекту занотуй до зошиту основні положення теми за планом:
 1. *Поняття демографії*
 2. *Види руху населення*
 3. *Становище чисельності населення*
 4. *Міграція населення в Україні*
 5. *Особливості демографічної політики в Україні*
3. Виконай завдання самостійної роботи для закріплення знань.

ОПОРНИЙ КОНСПЕКТ

Схема 1

НАУКА ДЕМОГРАФІЯ ТА ДЕМОГРАФІЧНІ ПРОЦЕСИ

Населення – сукупність людей, що постійно живуть на певній території

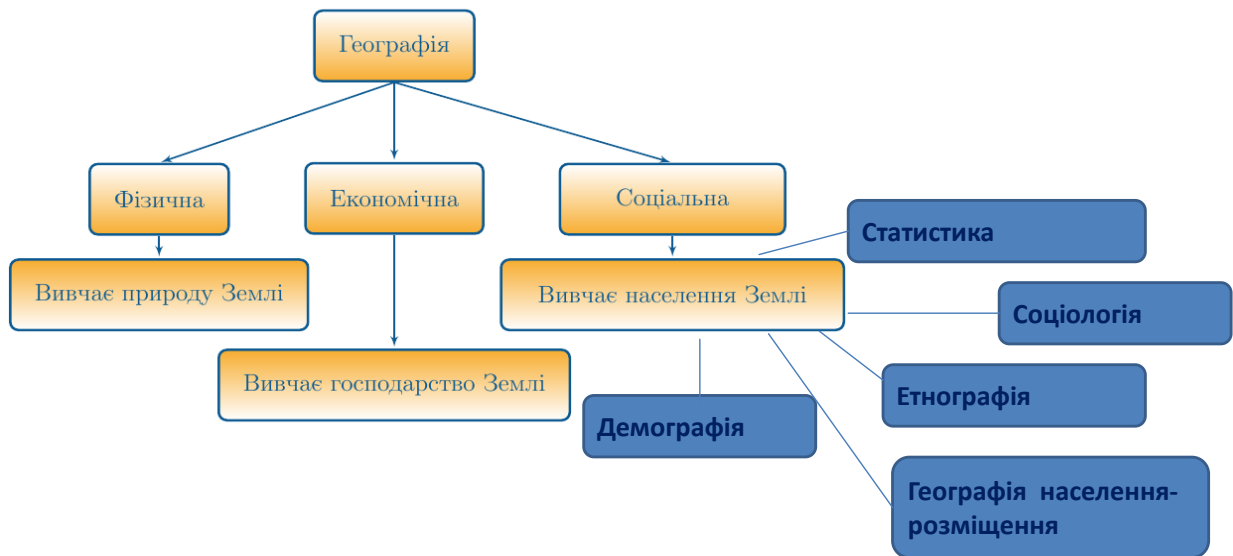


Схема 2

ДЕМОГРАФІЧНА СИТУАЦІЯ В УКРАЇНІ

Демографія – наука про чисельність населення та причини, що впливають на неї.

Населення України – 45 млн. чол. (2016 р.)
(місце: XXXI – в світі; VI – у Європі)

Природний рух населення (відтворення)

Демографічна формула:
$$Н. \left(\frac{\text{чол.}}{\text{тис.}} \right) - С. \left(\frac{\text{чол.}}{\text{тис.}} \right) = П.П. \left(\frac{\text{чол.}}{\text{тис.}} \right)$$

Тип відтворення
$$Н. \downarrow \quad \uparrow \quad С. = \quad П.П.$$

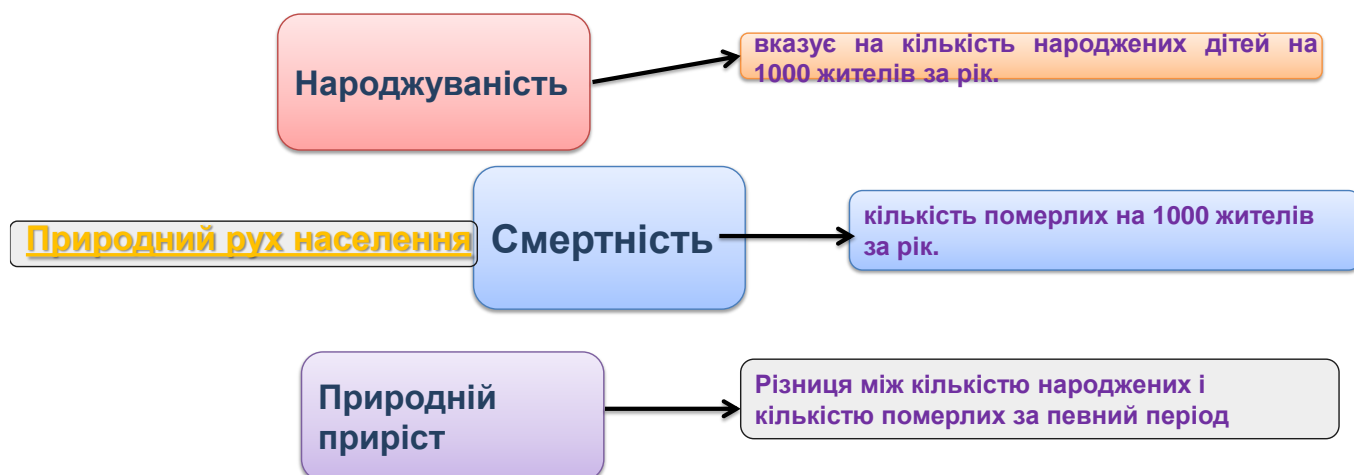
Механічний рух населення (міграції - переміщення людей)

Зовнішні: <ul style="list-style-type: none">■ імміграція (в'їзд)■ еміграція (виїзд)	Сальдо міграцій “+”, “-”	Внутрішні: <ul style="list-style-type: none">■ із села до міста;■ сезонні;■ маятникові.

Вплив історичних подій

Схема 3

ПРИРОДНИЙ РУХ НАСЕЛЕННЯ



Вимірювання: ‰ проміле, або кількість чол. На 1000 жителів/ рік
Так, якщо за рік на 1000 жителів народилося 10 дітей, пишуть 10 ‰.

Схема 4

Природний приріст = Н - С

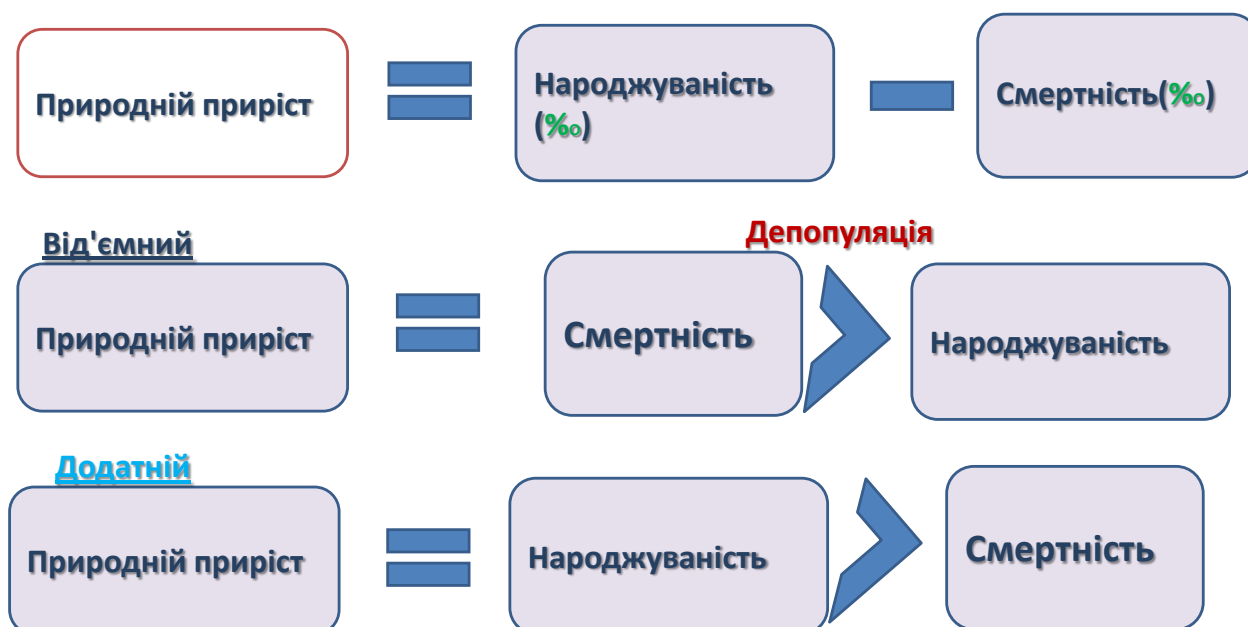


Схема 5

МЕХАНІЧНИЙ РУХ НАСЕЛЕННЯ

Міграція -переміщення людей по території зазвичай зі зміною місця перебування назавжди або на певний проміжок часу.



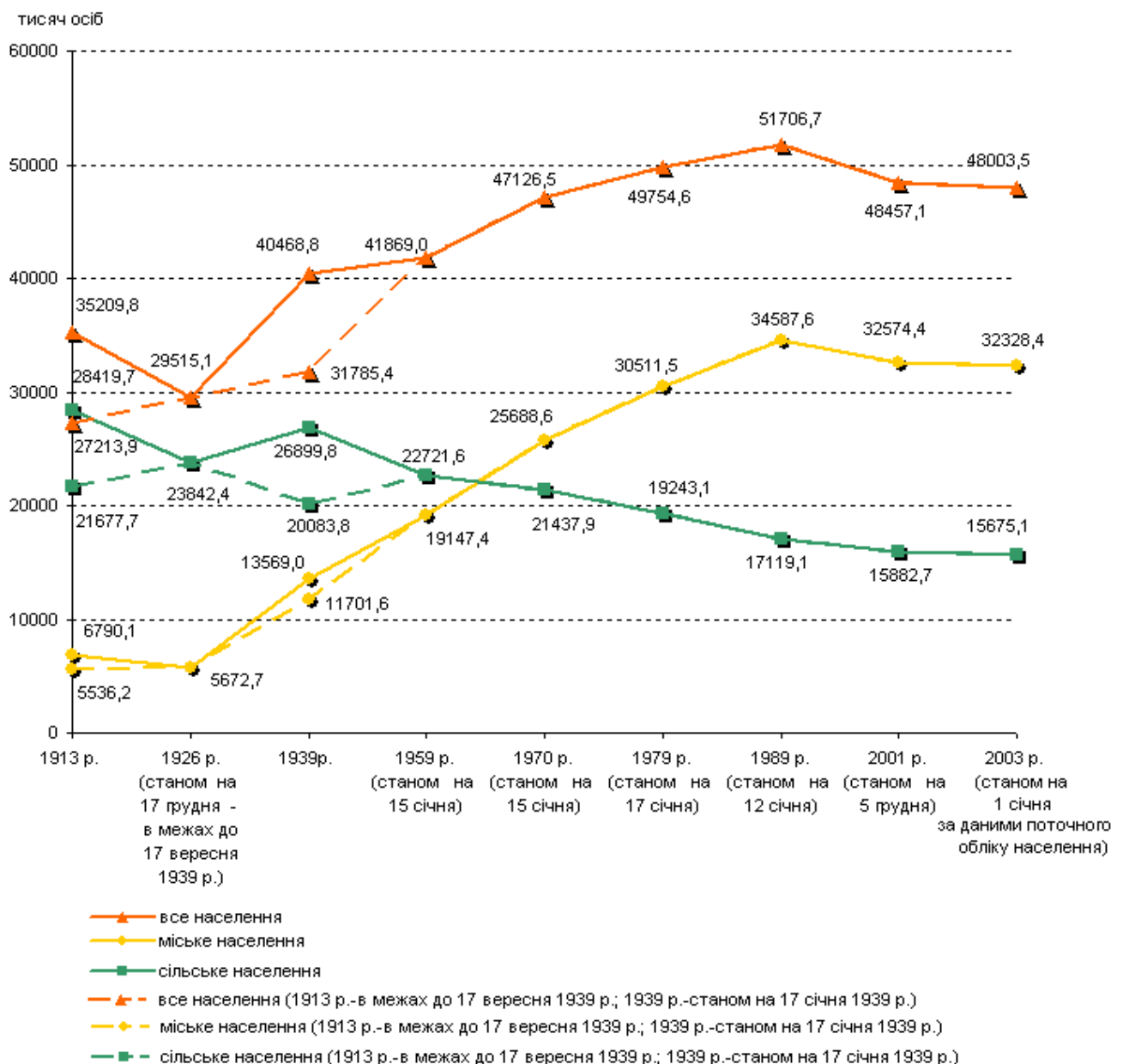
ВИКОНАЙ САМОСТІЙНО

Практична робота: Аналіз картограм народжуваності, смертності, природного приросту, густоти населення, урбанізації в Україні.

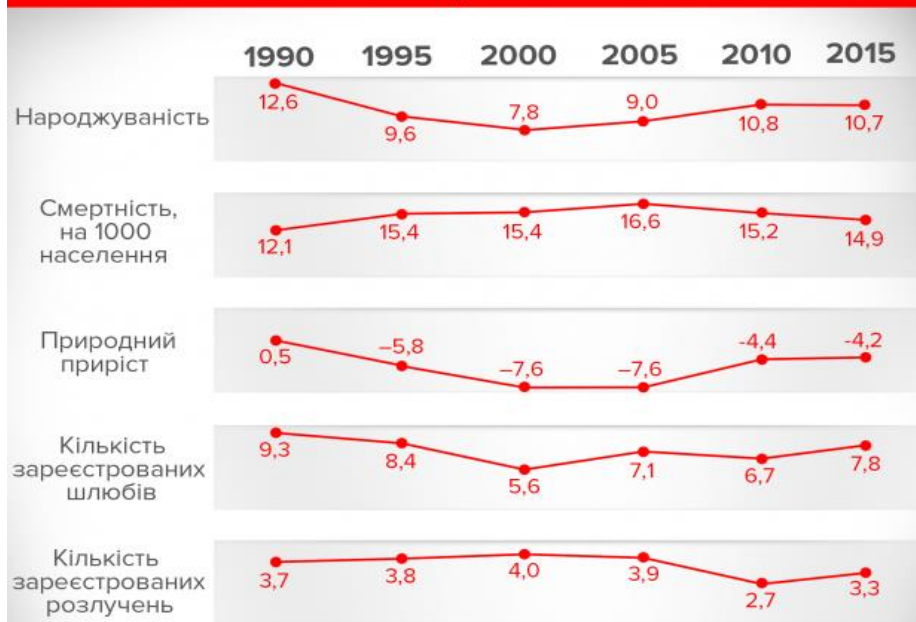
Завдання 1:

1. Порівняйте дані діаграм.
2. Які просторові закономірності демографічних процесів і розселення простежуються на території України?
3. Які особливості характерні для урбанізаційних процесів в Україні?

Динаміка кількості наявного населення України за даними переписів населення різних років



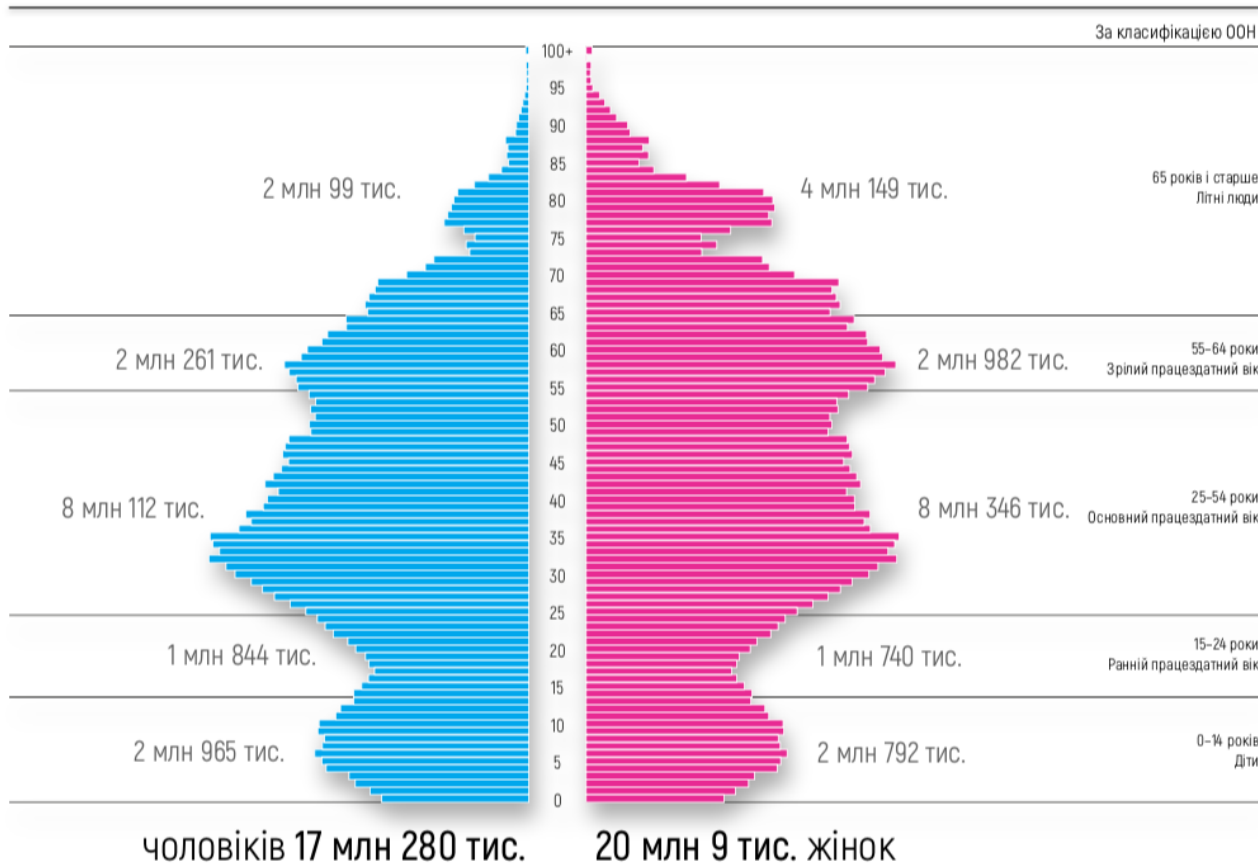
Населення України, млн. осіб



Завдання 2:

1. Проаналізуйте дані діаграми.
2. Схарактеризуйте статеву-вікову структуру населення України.
3. Порахуйте: яку частку населення (у %) становлять люди різних вікових груп: діти (Д) – 0–14 років, працездатні (П) – 15–60 років, літні люди (Л) – 60+ років.

СТАТЕВО-ВІКОВА СТРУКТУРА НАЯВНОГО НАСЕЛЕННЯ



Завдання 3:

- 1. Які існують типи відтворення населення та які їхні характерні ознаки?**
- 2. Що таке демографічна політика?**
- 3. Якими ознаками відрізняється міське поселення від сільського?**
- 4. Поясніть особливості демографічної ситуації в Україні.**
- 5. Поясніть, як впливає система розселення на розміщення виробництва та соціальної інфраструктури.**